

МУНИЦИПАЛЬНОЕ БЮДЖЕТНОЕ ОБЩЕОБРАЗОВАТЕЛЬНОЕ УЧРЕЖДЕНИЕ
«СРЕДНЯЯ ОБЩЕОБРАЗОВАТЕЛЬНАЯ ШКОЛА пгт АБЕЗЬ»

УТВЕРЖДЕНО:



Директор МБОУ «СОШ пгт. Абезь»

И.А. Тырина

Приказ от 26 марта 2019 г № 29

**Контрольно-измерительные материалы
для проведения промежуточной аттестации
по математике
11 класс
(базовый уровень)**

Форма проведения: итоговый тест

Учитель: Хозяинова Маргарита Васильевна

Пояснительная записка

Контрольно – измерительные материалы предназначены для проведения процедуры промежуточной аттестации учащихся 11 класса по учебному предмету **«Математика»**.

Контрольно-измерительные материалы составлены на основе Федерального компонента государственного общеобразовательного стандарта основного общего образования, в соответствии с действующей рабочей программой по учебному предмету «Математика».

Цель промежуточной аттестации - оценить общеобразовательную подготовку учащихся по математике за курс 10 класса.

Форма проведения промежуточной аттестации – итоговый тест.

Итоговая работа по математике за курс 11 класса в форме теста соответствует содержанию учебника Ш.А. Алимова, по математике для 11 класса.

Цели и промежуточной аттестации:

Определение степени освоения обучающихся учебного материала по математике в рамках освоения образовательной программы основного общего образования.

Кодификатор контрольно-измерительных материалов для проведения промежуточной аттестации по математике в 11 классе составлен в соответствии с кодификатором элементов содержания для проведения основного государственного экзамена по математике.

Кодификатор

элементов содержания по математике для составления входной контрольной работы 10 класса. Кодификатор элементов содержания по математике составлен на основе Обязательного минимума содержания основных образовательных программ и Требований к уровню подготовки учащихся 10 класса (приказ Минобрнауки России от 05.03.2004 № 1089 «Об утверждении федерального компонента Государственных стандартов начального общего, основного общего и среднего (полного) общего образования).

В первом столбце таблицы указаны коды разделов и тем. Во втором столбце указан код элемента содержания, для которого создаются проверочные задания.

Код раздела	Код контролируемого элемента	Элементы содержания, проверяемые заданиями КИМОм
1.1	1	Алгебра
		<i>Числа, корни и степени</i>
	1.1.1	Целые числа
	1.1.2	Степень с натуральным показателем
	1.1.3	Дроби, проценты, рациональные числа
	1.1.4	Степень с целым показателем
	1.1.5	Корень степени $n > 1$ и его свойства
	1.1.6	Степень с рациональным показателем и её свойства
1.2		<i>Основы тригонометрии</i>
	1.2.1	Синус, косинус, тангенс, котангенс произвольного угла
	1.2.2	Радианная мера угла
	1.2.3	Синус, косинус, тангенс и котангенс числа
	1.2.4	Основные тригонометрические тождества
	1.2.5	Формулы приведения
	1.2.6	Синус, косинус и тангенс суммы и разности двух углов
	1.2.7	Синус и косинус двойного угла
1.3		<i>Логарифмы</i>
	1.3.1	Логарифм числа
	1.3.2	Логарифм произведения, частного, степени
	1.3.3	Десятичный и натуральный логарифмы, число e
		<i>Преобразования выражений</i>
	1.4.1	Преобразования выражений, включающих арифметические операции
	1.4.2	Преобразования выражений, включающих операцию возведения в степень
	1.4.3	Преобразования выражений, включающих корни натуральной степени
	1.4.4	Преобразования тригонометрических выражений
	1.4.5	Преобразование выражений, включающих операцию логарифмирования
1.4.6	Модуль (абсолютная величина) числа	
2.1	2	Уравнения и неравенства
		Уравнения
	2.1.1	Квадратные уравнения.

	2.1.2	Рациональные уравнения
	2.1.3	Иррациональные уравнения
	2.1.4	Тригонометрические уравнения
	2.1.5	Показательные уравнения
	2.1.6	Логарифмические уравнения
	2.1.7	Равносильность уравнений, систем уравнений
	2.1.8	Простейшие системы уравнений с двумя неизвестными
	2.1.9	Основные приёмы решения систем уравнений: подстановка, алгебраическое сложение, введение новых переменных
	2.1.10	Использование свойств и графиков функций при решении уравнений
	2.1.11	Изображение на координатной плоскости множества решений уравнений с двумя переменными и их систем
	2.1.12	Применение математических методов для решения содержательных задач из различных областей науки и практики. Интерпретация результата, учёт реальных ограничений
2.2		Неравенства
	2.2.1	Квадратные неравенства
	2.2.2	Рациональные неравенства
	2.2.3	Показательные неравенства
	2.2.4	Логарифмические неравенства
	2.2.5	Системы линейных неравенств
	2.2.6	Системы неравенств с одной переменной
	2.2.7	Равносильность неравенств, систем неравенств
	2.2.8	Использование свойств и графиков функций при решении неравенств
	2.2.9	Метод интервалов
	2.2.10	Изображение на координатной плоскости множества решений неравенств с двумя переменными и их систем
	3	Функции
		Определение и график функции
3.1	3.1.1	Функция, область определения функции
	3.1.2	Множество значений функции
	3.1.3	График функции. Примеры функциональных зависимостей в реальных процессах и явлениях
	3.1.4	Обратная функция. График обратной функции
	3.1.5	Преобразования графиков: параллельный перенос, симметрия относительно осей координат
3.2		Основные элементарные функции
	3.2.1	Линейная функция, её график
	3.2.2	Функция, описывающая обратную пропорциональную зависимость, её график
	3.2.3	Квадратичная функция, её график
	3.2.4	Степенная функция с натуральным показателем, её график
	3.2.5	Показательная функция, её график
	3.2.6	Логарифмическая функция, её график
	4	Геометрия
4.1		Планиметрия
	4.1.1	Треугольник
	4.1.2	Параллелограмм, прямоугольник, ромб, квадрат

	4.1.3	Трапеция
	4.1.4	Окружность и круг
	4.1.5	Окружность, вписанная в треугольник, и окружность, описанная около треугольника
	4.1.6	Многоугольник. Сумма углов выпуклого многоугольника
	4.1.7	Правильные многоугольники. Вписанная окружность и описанная окружность правильного многоугольника
4.2		Прямые и плоскости в пространстве
	4.2.1	Пересекающиеся, параллельные и скрещивающиеся прямые; перпендикулярность прямых
	4.2.2	Параллельность прямой и плоскости, признаки и свойства
	4.2.3	Параллельность плоскостей, признаки и свойства
	4.2.4	Перпендикулярность прямой и плоскости, признаки и свойства; перпендикуляр и наклонная; теорема о трёх перпендикулярах
	4.2.5	Перпендикулярность плоскостей, признаки и свойства
4.3		Параллельное проектирование. Изображение пространственных фигур
		Многогранники
	4.3.1	Призма, её основания, боковые рёбра, высота, боковая поверхность; прямая призма; правильная призма
	4.3.2	Параллелепипед; куб; симметрии в кубе, в параллелепипеде
	4.3.3	Пирамида, её основание, боковые рёбра, высота, боковая поверхность; треугольная пирамида; правильная пирамида
	4.3.4	Сечения куба, призмы, пирамиды
4.4	4.3.5	Представление о правильных многогранниках (тетраэдр, куб, октаэдр, додекаэдр и икосаэдр)
		Измерение геометрических величин
	4.4.1	Величина угла, градусная мера угла, соответствие между величиной угла и длиной дуги окружности
	4.4.2	Угол между прямыми в пространстве; угол между прямой и плоскостью, угол между плоскостями
	4.4.3	Длина отрезка, ломаной, окружности, периметр многоугольника
	4.4.4	Расстояние от точки до прямой, от точки до плоскости; расстояние между параллельными и скрещивающимися прямыми, расстояние между параллельными плоскостями
5.1	4.4.5	Площадь треугольника, параллелограмма, трапеции, круга, сектора
	5	Элементы комбинаторики, статистики и теории вероятностей
		Элементы статистики
	5.1.1	Табличное и графическое представление данных
	5.1.2	Числовые характеристики рядов данных
	Элементы теории вероятностей	

5.2	5.2.1	Вероятности событий
	5.2.2	Примеры использования вероятностей и статистики при решении прикладных задач

Кодификатор требований к уровню подготовки выпускников образовательных организаций для проведения единого государственного экзамена по математике

Кодификатор требований к уровню подготовки выпускников образовательных организаций для проведения единого государственного экзамена по математике составлен на основе Обязательного минимума содержания основных образовательных программ и Требований к уровню подготовки выпускников средней школы (приказ Минобрнауки России от 05.03.2004 № 1089 «Об утверждении федерального компонента Государственных стандартов начального общего, основного общего и среднего (полного) общего образования»). Кодификатор требований по всем разделам включает в себя требования к уровню подготовки выпускников образовательных организаций (базовый уровень). В первом столбце таблицы указаны коды разделов, на которые разбиты требования к уровню подготовки по математике. Во втором столбце указан код требования, для которого создаются экзаменационные задания. В третьем столбце указаны требования (умения), проверяемые заданиями экзаменационной работы.

Кодификатор

требований к уровню подготовки обучающихся, освоивших основные общеобразовательные программы основного общего образования, для проведения промежуточной аттестации по математике в 10-х классах

код раздела	Код контролируемого требования (умения)	Элементы содержания, проверяемые заданиями экзаменационной работы
1		Уметь выполнять вычисления и преобразования
	1.1.	Выполнять арифметические действия, сочетая устные и письменные приемы; находить значения корня натуральной степени, степени с рациональным показателем, логарифма
	1.2	Вычислять значения числовых и буквенных выражений, осуществляя необходимые подстановки и преобразования
	1.3	Проводить по известным формулам и правилам преобразования буквенных выражений, включающих степени, радикалы, логарифмы и тригонометрические функции
2		Уметь решать уравнения и неравенства
	.2.1	Решать рациональные, иррациональные, показательные и логарифмические уравнения, их системы
	2.2	Решать уравнения, простейшие системы уравнений, используя свойства функций и их графиков; использовать для приближенного решения уравнений и неравенств графический метод
	2.3	Решать рациональные, показательные и логарифмические неравенства, их системы
3		Уметь выполнять действия с функциями
	3.1	Определять значение функции по значению аргумента при различных способах задания функции; описывать по графику поведение и свойства функции, находить по графику функции наибольшее и наименьшее значения; строить графики изученных функций
	3.2	Исследовать в простейших случаях функции на монотонность, находить наибольшее и наименьшее значения функции

код раздела	Код контролируемого требования (умения)	Элементы содержания, проверяемые заданиями экзаменационной работы
4		Уметь выполнять действия с геометрическими фигурами
	4.1	Решать планиметрические задачи на нахождение геометрических (длин, углов, площадей)
	4.2	Решать простейшие стереометрические задачи на нахождение геометрических величин (длин, углов, площадей); использовать при решении стереометрических задач планиметрические факты и методы
5		Уметь строить и исследовать простейшие математические модели
	5.1	Моделировать реальные ситуации на языке алгебры, составлять уравнения и неравенства по условию задачи; исследовать построенные модели с использованием аппарата алгебры
	5.2	Моделировать реальные ситуации на языке геометрии, исследовать построенные модели с использованием геометрических понятий и теорем, аппарата алгебры; решать практические задачи, связанные с нахождением геометрических величин
	5.3	Проводить доказательные рассуждения при решении задач, оценивать логическую правильность рассуждений, распознавать логически некорректные рассуждения
	5.4	Моделировать реальные ситуации на языке теории вероятностей и статистики, вычислять в простейших случаях вероятности событий
6		Уметь использовать приобретенные знания и умения в практической деятельности и повседневной жизни
	6.1	Анализировать реальные числовые данные, информацию статистического характера; осуществлять практические расчеты по формулам; пользоваться оценкой и прикидкой при практических расчетах
	6.2	Описывать с помощью функций различные реальные зависимости между величинами и интерпретировать их графики; извлекать информацию, представленную в таблицах, на диаграммах, графиках
	6.3	Решать прикладные задачи, в том числе социально-экономического и физического характера, на наибольшие и наименьшие значения, на нахождение скорости и ускорения

**Спецификация
контрольных измерительных материалов
для проведения в 2020 году единого государственного экзамена
по МАТЕМАТИКЕ (базовый уровень)**

1. Назначение контрольных измерительных материалов (КИМ) ЕГЭ

Единый государственный экзамен (ЕГЭ) представляет собой форму государственной итоговой аттестации, проводимой в целях определения соответствия результатов освоения обучающимися основных образовательных программ среднего общего образования соответствующим требованиям федерального государственного образовательного стандарта или образовательного стандарта. Для указанных целей используются контрольные измерительные материалы (КИМ), представляющие собой комплексы заданий стандартизированной формы.

ЕГЭ проводится в соответствии с Федеральным законом «Об образовании в Российской Федерации» от 29.12.2012 № 273-ФЗ и Порядком проведения государственной итоговой аттестации по образовательным программам среднего общего образования, утверждённым приказом Минпросвещения России и Рособнадзора от 07.11.2018 № 190/1512.

2. Распределение заданий варианта КИМ ЕГЭ по содержанию, видам умений и способам действий

экзаменационной работе проверяется следующий учебный материал.

Математика, 5–6 классы.

Алгебра, 7–9 классы.

Алгебра и начала анализа, 10–11 классы.

Теория вероятностей и статистика, 7–9 классы.

Геометрия, 7–11 классы.

таблице 1 показано распределение заданий экзаменационной работы по содержательным разделам курса математики.

Таблица 1

*Распределение заданий экзаменационной работы
по содержательным разделам курса математики*

Содержательные разделы	Количество заданий	Максимальный первичный балл	Процент максимального первичного балла за выполнение заданий данного раздела содержания от максимального первичного балла за всю работу, равного 20
Алгебра	10	10	50
Уравнения и неравенства	3	3	15
Функции	1	1	5
Начала математического анализа	1	1	5
Геометрия	4	4	20
Элементы комбинаторики, статистики и теории вероятностей	1	1	5
Итого	20	20	100

Содержание и структура экзаменационной работы дают возможность достаточно полно проверить комплекс умений и навыков по предмету:

1. уметь использовать приобретенные знания и умения в практической деятельности и повседневной жизни;
2. уметь выполнять вычисления и преобразования;
3. уметь решать уравнения и неравенства;
4. уметь выполнять действия с функциями;
5. уметь выполнять действия с геометрическими фигурами;
6. уметь строить и исследовать математические модели

*Распределение заданий экзаменационной работы
по видам проверяемых умений и способам действий*

Проверяемые умения и способы действий	Количество заданий	Максимальный первичный балл	Процент максимального первичного балла за выполнение заданий данного вида учебной деятельности от максимального первичного балла за всю работу, равного 20
Уметь выполнять вычисления и преобразования	5	5	25
Уметь решать уравнения и неравенства	2	2	10
Уметь выполнять действия с функциями	1	1	5
Уметь выполнять действия с геометрическими фигурами	3	3	15
Уметь строить и исследовать математические модели	5	5	25
Уметь использовать приобретенные знания и умения в практической деятельности и повседневной жизни	4	4	20
Итого	20	20	100

3. Распределение заданий КИМ ЕГЭ по уровню сложности

Экзаменационная работа содержит задания только базового уровня сложности.

4. Продолжительность ЕГЭ по математике базового уровня

На выполнение экзаменационной работы отводится 3 часа (180 минут).

5. Дополнительные материалы и оборудование

Перечень дополнительных устройств и материалов, пользование которыми разрешено на ЕГЭ, утвержден приказом Минпросвещения России и Рособрназора. Необходимые справочные материалы выдаются вместе с текстом экзаменационной работы. При выполнении заданий разрешается пользоваться линейкой.

6. Система оценивания выполнения отдельных заданий и экзаменационной работы в целом

Оценивание правильности выполнения заданий, предусматривающих краткий ответ, осуществляется с использованием специальных аппаратно-программных средств.

Правильное решение каждого из заданий 1–20 оценивается 1 баллом. Задание считается выполненным верно, если экзаменуемый дал правильный ответ в виде целого числа, или конечной десятичной дроби, или последовательности цифр.

Общий максимальный первичный балл за выполнение всей экзаменационной работы – 20.

**Обобщенный план варианта КИМ ЕГЭ 2019 года
по МАТЕМАТИКЕ (базовый уровень)**

Уровни сложности заданий: Б – базовый.

№	Проверяемые требования (умения)	Коды проверяемых требований к уровню подготовки (по кодификатору)	Коды проверяемых элементов содержания (по кодификатору)	Уровень сложности задания	Максимальный балл за выполнение задания	Примерное время выполнения задания выпускником, изучавшим математику на базовом уровне (в минутах)
1	Уметь выполнять вычисления и преобразования	1.1	1.1.1, 1.1.3, 1.4.1	Б	1	5
2	Уметь выполнять вычисления и преобразования	1.1	1.1.3, 1.1.4, 1.4.2	Б	1	5
3	Уметь использовать приобретенные знания и умения в практической деятельности и повседневной жизни	6.3	1.1.3	Б	1	7
4	Уметь выполнять вычисления и преобразования	1.2	1.4.1–1.4.3	Б	1	7
5	Уметь выполнять вычисления и преобразования	1.1–1.3	1.4.3–1.4.5	Б	1	8
6	Уметь использовать приобретенные знания и умения в практической деятельности и повседневной жизни	6.1	1.4.1	Б	1	8
7	Уметь решать уравнения и неравенства	2.1	2.1.1–2.1.6	Б	1	8
8	Уметь строить и исследовать простейшие математические модели	4.1, 5.2	5.1.1–5.1.3, 5.5.1, 5.5.3, 5.5.5	Б	1	11
9	Уметь использовать приобретенные знания и умения в практической деятельности и повседневной жизни	6.1	2.1.12, 6.3.1	Б	1	5
10	Уметь строить и исследовать простейшие математические модели	5.4	6.3.1	Б	1	11
11	Уметь использовать приобретенные знания и умения в практической деятельности и повседневной жизни	6.2, 3.1	6.2.1, 3.1.3	Б	1	5
12	Уметь строить и исследовать простейшие математические модели	5.1, 6.1, 6.2	1.4.1	Б	1	12
13	Уметь выполнять действия с геометрическими фигурами	4.2	5.3.1–5.3.5, 5.4.1–5.4.3, 5.5.5–5.5.7	Б	1	12
14	Уметь выполнять действия с функциями	3.3, 6.2, 6.3	3.1.1–3.1.3, 3.2.1, 3.2.5, 3.2.6, 4.1.1, 4.1.2, 6.2.1	Б	1	8
15	Уметь выполнять действия с геометрическими фигурами	4.1	5.1.1–5.1.5, 5.5.1, 5.5.3, 5.5.5	Б	1	9
16	Уметь выполнять действия с геометрическими фигурами	4.2	5.3.1–5.3.3, 5.4.1–5.4.3, 5.5.5–5.5.7	Б	1	9
17	Уметь решать уравнения и неравенства	2.3, 6.1	2.2.1–2.2.5	Б	1	9
18	Уметь строить и исследовать простейшие математические модели	5.3	2.1.12	Б	1	9
19	Уметь выполнять вычисления и преобразования	1.1	1.4.1, 1.4.2	Б	1	16
20	Уметь строить и исследовать простейшие математические модели	5.1	1.4.1, 1.4.2, 2.2.2	Б	1	16

Всего заданий – **20**; из них по типу заданий: с кратким ответом – **20**; по уровню сложности: Б – **20**.
Максимальный первичный балл за работу – **20**.
Общее время выполнения работы – **180** минут.

Вариант 3

1. Найдите значение выражения $\left(3\frac{4}{5} - 2,8\right) \cdot 6\frac{1}{2}$.

2. Найдите значение выражения $\frac{4^3}{2^5}$.

3.

Цена на электрический чайник была повышена на 15% и составила 3450 рублей. Сколько рублей стоил чайник до повышения цены?

4.

Площадь треугольника вычисляется по формуле $S = \frac{1}{2}bc \sin \alpha$, где b и c — две стороны треугольника, а α — угол между ними. Пользуясь этой формулой, найдите площадь S , если $b = 18$, $c = 16$ и $\sin \alpha = \frac{1}{3}$.

5.

Найдите значение выражения $\operatorname{tg} 42^\circ \cdot \operatorname{ctg} 42^\circ$.

6.

Стоимость проездного билета на месяц составляет 580 рублей, а стоимость билета на одну поездку — 20 рублей. Аня купила проездной и сделала за месяц 41 поездку. На сколько рублей больше она бы потратила, если бы покупала билеты на одну поездку?

7.

Решите уравнение $x^2 = -4x$. Если уравнение имеет более одного корня, в ответе укажите меньший из них.

8.

Пол комнаты, имеющей форму прямоугольника со сторонами 4 м и 9 м, требуется покрыть паркетом из прямоугольных дощечек со сторонами 10 см и 25 см. Сколько потребуется таких дощечек?

9.

Установите соответствие между величинами и их возможными значениями: к каждому элементу первого столбца подберите соответствующий элемент из второго столбца.

ВЕЛИЧИНЫ

А) время обращения Земли вокруг Солнца

Б) длительность полнометражного художественного фильма

В) длительность звучания одной песни

Г) продолжительность вспышки фотоаппарата

ВОЗМОЖНЫЕ
ЗНАЧЕНИЯ

1) 3,5 минуты

2) 105 минут

3) 365 суток

4) 0,1 секунды

В таблице под каждой буквой, соответствующей величине, укажите номер её возможного значения.

А	Б	В	Г

10.

На птицеферме есть только куры и гуси, причём кур в 9 раз больше, чем гусей. Найдите вероятность того, что случайно выбранная на этой ферме птица окажется гусем.

11.

На рисунке изображён график значений атмосферного давления в некотором городе за три дня. По горизонтали указаны дни недели, по вертикали — значения атмосферного давления в миллиметрах ртутного столба. Определите по рисунку наименьшее значение атмосферного давления во вторник (в миллиметрах ртутного столба).



12.

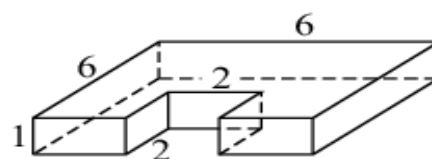
Для обслуживания международного семинара необходимо собрать группу переводчиков. Сведения о кандидатах представлены в таблице.

Номер переводчика	Языки	Стоимость услуг (руб. в день)
1	Английский, немецкий	7000
2	Немецкий	3900
3	Французский	2000
4	Испанский	2900
5	Испанский, английский	5850
6	Испанский, французский	6100

Пользуясь таблицей, соберите хотя бы одну группу, в которой переводчики вместе владеют всеми четырьмя языками: английским, немецким, испанским и французским, а суммарная стоимость их услуг не превышает 12 000 рублей в день. В ответе укажите какой-нибудь один набор номеров переводчиков без пробелов, запятых и других дополнительных символов.

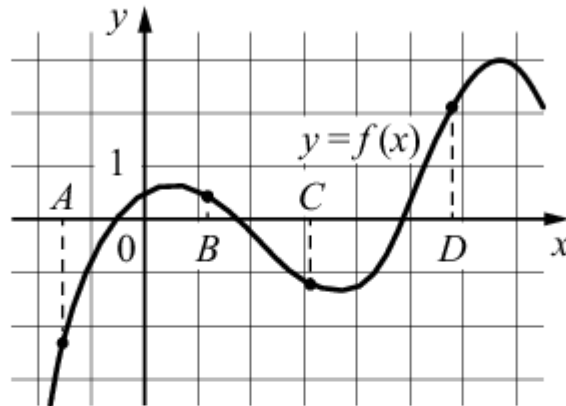
13.

Деталь имеет форму изображённого на рисунке многогранника (все двугранные углы прямые). Числа на рисунке обозначают длины рёбер в сантиметрах. Найдите площадь поверхности этой детали. Ответ дайте в квадратных сантиметрах.



14.

На рисунке изображён график функции $y = f(x)$ и отмечены точки A, B, C и D на оси Ox . Пользуясь графиком, поставьте в соответствие каждой точке характеристики функции и её производной.



ТОЧКИ ХАРАКТЕРИСТИКИ ФУНКЦИИ И ПРОИЗВОДНОЙ

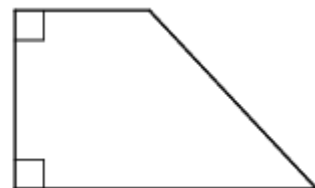
- A 1) значение функции в точке положительно, а значение производной функции в точке отрицательно
- B 2) значение функции в точке отрицательно, и значение производной функции в точке отрицательно
- C 3) значение функции в точке отрицательно, а значение производной функции в точке положительно
- D 4) значение функции в точке положительно, и значение производной функции в точке положительно

В таблице под каждой буквой укажите соответствующий номер.

A	B	C	D

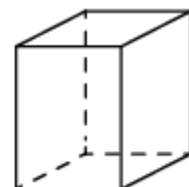
15.

В прямоугольной трапеции основания равны 4 и 7, а один из углов равен 135° . Найдите меньшую боковую сторону.



16.

Два ребра прямоугольного параллелепипеда равны 1 и 2, а объём параллелепипеда равен 6. Найдите площадь поверхности этого параллелепипеда.



17.

Каждому из четырёх неравенств в левом столбце соответствует одно из решений в правом столбце. Установите соответствие между неравенствами и их решениями.

НЕРАВЕНСТВА	РЕШЕНИЯ
А) $(x - 1)(x - 2) < 0$	1) $(1; 2)$
Б) $\frac{x - 1}{x - 2} > 0$	2) $(1; 2) \cup (2; +\infty)$
В) $(x - 1)^2(x - 2) < 0$	3) $(-\infty; 1) \cup (1; 2)$
Г) $\frac{(x - 2)^2}{x - 1} > 0$	4) $(-\infty; 1) \cup (2; +\infty)$

Впишите в приведённую в ответе таблицу под каждой буквой соответствующий номер решения.

А	Б	В	Г

18.

Школа приобрела стол, доску, магнитофон и принтер. Известно, что принтер дороже магнитофона, а доска дешевле магнитофона и дешевле стола. Выберите утверждения, которые верны при указанных условиях.

- 1) Магнитофон дешевле доски.
- 2) Принтер дороже доски.
- 3) Доска — самая дешёвая из покупок.
- 4) Принтер и доска стоят одинаково.

В ответе запишите номера выбранных утверждений без пробелов, запятых и других дополнительных символов.

19.

Вычеркните в числе 181615121 три цифры так, чтобы получившееся число делилось на 12. В ответе укажите какое-нибудь одно такое число.

20.

Список заданий викторины состоял из 25 вопросов. За каждый правильный ответ ученик получал 7 очков, за неправильный ответ с него списывали 9 очков, а при отсутствии ответа давали 0 очков. Сколько верных ответов дал ученик, набравший 56 очков, если известно, что по крайней мере один раз он ошибся?

Вариант 4

1. Найдите значение выражения $\frac{1}{\frac{1}{9} - \frac{1}{12}}$.

2.

3. Найдите значение выражения $\frac{0,8 \cdot 10^{-1}}{4 \cdot 10^{-2}}$.

4.

В магазине вся мебель продаётся в разобранном виде. Покупатель может заказать сборку мебели на дому, стоимость которой составляет 10% от стоимости купленной мебели. Шкаф стоит 3300 рублей. Во сколько рублей обойдётся покупка этого шкафа вместе со сборкой?

5.

Площадь трапеции вычисляется по формуле $S = \frac{a+b}{2} \cdot h$, где a и b — основания трапеции, h — её высота. Пользуясь этой формулой, найдите S , если $a = 3$, $b = 8$ и $h = 4$.

6.

Найдите значение выражения $(\sqrt{12} - \sqrt{3})\sqrt{3}$.

7.

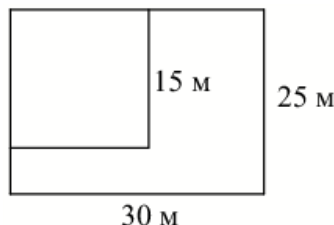
Выпускники 11 «А» покупают букеты цветов для последнего звонка: из 7 роз каждому учителю и из 11 роз классному руководителю и директору. Они собираются подарить букеты 15 учителям (включая директора и классного руководителя), розы покупаются по оптовой цене 25 рублей за штуку. Сколько рублей стоят все розы?

8.

Найдите корень уравнения $(x-3)^2 = (x-1)^2$.

9.

Дачный участок имеет форму прямоугольника со сторонами 25 метров и 30 метров. Хозяин отгородил на участке квадратный вольер со стороной 15 м (см. рис.). Найдите площадь оставшейся части участка. Ответ дайте в квадратных метрах.



9.

Установите соответствие между величинами и их возможными значениями: к каждому элементу первого столбца подберите соответствующий элемент из второго столбца.

ВЕЛИЧИНЫ

- А) толщина волоса
- Б) рост новорождённого ребёнка
- В) длина футбольного поля
- Г) длина экватора

ВОЗМОЖНЫЕ ЗНАЧЕНИЯ

- 1) 40 000 км
- 2) 50 см
- 3) 0,1 мм
- 4) 105 м

В таблице под каждой буквой, соответствующей величине, укажите номер её возможного значения.

А	Б	В	Г

10.

В фирме такси в наличии 15 легковых автомобилей: 9 из них чёрного цвета с жёлтыми надписями на боках, остальные — жёлтого цвета с чёрными надписями. Найдите вероятность того, что на случайный вызов приедет машина жёлтого цвета с чёрными надписями.

11.

В соревнованиях по метанию молота участники показали следующие результаты:

Спортсмен	Результат попытки, м					
	I	II	III	IV	V	VI
Лаптев	55,5	55	54	53	54,5	55,5
Монакин	52	51,5	53,5	53	54	54,5
Таль	49,5	49	50,5	51	51	52
Овсов	51	52	51	50,5	52,5	52

Места распределяются по результатам лучшей попытки каждого спортсмена: чем дальше он метнул молот, тем лучше.

Каков результат лучшей попытки (в метрах) спортсмена, занявшего четвёртое место?

12.

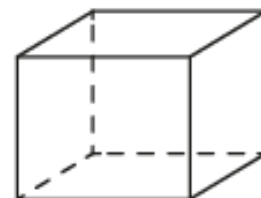
Для транспортировки 45 тонн груза на 1300 км можно воспользоваться услугами одной из трёх фирм-перевозчиков. Стоимость перевозки и грузоподъёмность автомобилей каждого перевозчика указаны в таблице.

Перевозчик	Стоимость перевозки одним автомобилем (руб. на 100 км)	Грузоподъёмность одного автомобиля (тонны)
A	3200	3,5
B	4100	5
B	9500	12

Сколько рублей придётся заплатить за самую дешёвую перевозку?

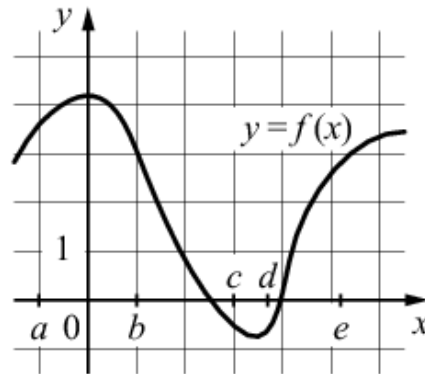
13.

Аквариум имеет форму прямоугольного параллелепипеда с размерами 60 см×30 см×40 см. Сколько литров составляет объём аквариума? В одном литре 1000 кубических сантиметров.



14.

На рисунке изображён график функции $y = f(x)$. Числа a, b, c, d и e задают на оси Ox интервалы. Пользуясь графиком, поставьте в соответствие каждому интервалу характеристику функции или её производной.



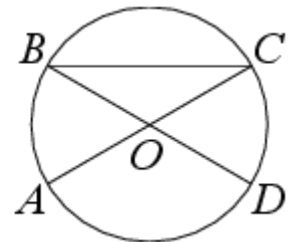
ИНТЕРВАЛЫ	ХАРАКТЕРИСТИКИ ФУНКЦИИ ИЛИ ПРОИЗВОДНОЙ
А) $(a; b)$	1) значения функции положительны в каждой точке интервала
Б) $(b; c)$	2) значения функции отрицательны в каждой точке интервала
В) $(c; d)$	3) значения производной функции отрицательны в каждой точке интервала
Г) $(d; e)$	4) значения производной функции положительны в каждой точке интервала

В таблице под каждой буквой укажите соответствующий номер.

А	Б	В	Г

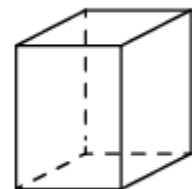
15.

В окружности с центром O отрезки AC и BD — диаметры. Центральный угол AOD равен 130° . Найдите угол ACB . Ответ дайте в градусах.



16.

Два ребра прямоугольного параллелепипеда равны 1 и 2, а объём параллелепипеда равен 6. Найдите площадь поверхности этого параллелепипеда.



17.

Каждому из четырёх неравенств в левом столбце соответствует одно из решений в правом столбце. Установите соответствие между неравенствами и их решениями.

НЕРАВЕНСТВА

РЕШЕНИЯ

А) $(x - 1)(x - 2) < 0$

1) $1 < x < 2$

Б) $\frac{x - 1}{x - 2} > 0$

2) $1 < x < 2$ или $x > 2$

В) $(x - 1)^2(x - 2) < 0$

3) $x < 1$ или $1 < x < 2$

Г) $\frac{(x - 2)^2}{x - 1} > 0$

4) $x < 1$ или $x > 2$

Впишите в приведённую в ответе таблицу под каждой буквой соответствующий номер решения.

А	Б	В	Г

18.

Некоторые сотрудники фирмы летом 2014 года отдыхали в Крыму, а некоторые — в Сочи. Все сотрудники, которые отдыхали в Сочи, не отдыхали в Крыму. Выберите утверждения, которые верны при указанных условиях.

- 1) Если сотрудник этой фирмы летом 2014 года отдыхал в Крыму, то он отдыхал и в Сочи.
- 2) Каждый сотрудник этой фирмы отдыхал летом 2014 года в Крыму.
- 3) Среди сотрудников этой фирмы, которые не отдыхали в Сочи летом 2014 года, есть хотя бы один, который отдыхал в Крыму.
- 4) Нет ни одного сотрудника этой фирмы, который летом 2014 года отдыхал и в Крыму, и в Сочи.

В ответе запишите номера выбранных утверждений без пробелов, запятых и других дополнительных символов.

19.

Найдите четырёхзначное число, кратное 15, произведение цифр которого больше 35, но меньше 45. В ответе укажите какое-нибудь одно такое число.

20.

На палке отмечены поперечные линии красного, жёлтого и зелёного цвета. Если распилить палку по красным линиям, получится 5 кусков, если по жёлтым — 7 кусков, а если по зелёным — 11 кусков. Сколько кусков получится, если распилить палку по линиям всех трёх цветов?

Ответы по вариантам

№ задания	3 вариант	4 вариант
1	6,5	36
2	2	2
3	3000	3630
4	48	22
5	1	3
6	240	2825
7	-4	2
8	1440	525
9	3214	3241
10	0,1	0,4
11	751	52
12	532/134	479700
13	92	72
14	3124	1324
15	3	25
16	22	22
17	1432	1432
18	23	34
19	116112	4215/2145
20	7	21